

# Тренировочная работа №1 по ИНФОРМАТИКЕ

9 класс

ОГЭ 2025 года

Вариант 01

Выполнена: ФИО \_\_\_\_\_ класс \_\_\_\_\_

## Инструкция по выполнению работы

Работа состоит из двух частей, включающих в себя 16 заданий. Часть 1 содержит 10 заданий с кратким ответом; часть 2 содержит 6 заданий, которые необходимо выполнить на компьютере.

На выполнение работы по информатике отводится 2 часа 30 минут (150 минут). Вы можете самостоятельно определять время, которое отводите на выполнение заданий, но рекомендуемое время на выполнение заданий части 1 – 30 минут, на выполнение заданий части 2 – 2 часа (120 минут).

Ответы к заданиям 1–12 записываются в виде числа, слова, последовательности букв или цифр. Ответ запишите в поле ответа в тексте работы.

Результатом выполнения каждого из заданий 13–16 является отдельный файл. Формат файла, его имя и каталог для сохранения Вам сообщат организаторы.

Все записи делаются яркими чёрными чернилами. Допускается использование гелевой или капиллярной ручки.

При выполнении заданий можно пользоваться черновиком. **Записи в черновике не учитываются при оценивании работы.**

Баллы, полученные Вами за выполненные задания, суммируются.

Постарайтесь выполнить как можно больше заданий и набрать наибольшее количество баллов.

***Желаем успеха!***

**Часть 1**

**Ответами к заданиям 1–10 являются число, слово, последовательность букв или цифр.**

**1** В одной из кодировок Unicode каждый символ кодируется 16 бит. Вася написал текст (в нём нет лишних пробелов):

«Я знаю девять браузеров: Tor, Edge, Opera, Chrome, Firefox, Explorer, SeaMonkey, ZenBrowser, SlimBrowser».

Ученик удалил из списка название одного браузера, а также лишние запятые и пробелы – два пробела не должны идти подряд.

При этом размер нового предложения в данной кодировке оказался на 14 байт меньше, чем размер исходного предложения. Напишите в ответе вычеркнутое слово.

Ответ: \_\_\_\_\_.

**2** Олег и Вова играли в шпионов и кодировали сообщения собственным шифром. Фрагмент кодовой таблицы приведён ниже:

М	Н	Б	И	Т	О
~	*	*@	@~*	@*	~*

Расшифруйте сообщение, если известно, что буквы в нём не повторяются:

\* @ @ ~ \* \* ~ \* ~

Запишите в ответе расшифрованное сообщение.

Ответ: \_\_\_\_\_.

**3** Определите наименьшее натуральное число  $x$ , для которого истинно логическое выражение:

**НЕ  $((x \geq 20) \text{ ИЛИ } (x < 15))$ .**

Ответ: \_\_\_\_\_.

4

Между населёнными пунктами А, В, С, D, E, F построены дороги, протяжённость которых (в километрах) приведена в таблице.

	A	B	C	D	E	F
A		3	6			20
B	3		2			
C	6	2		1		
D			1		2	6
E				2		2
F	20			6	2	

Определите длину кратчайшего пути между пунктами А и F. Передвигаться можно только по дорогам, протяжённость которых указана в таблице.

Ответ: \_\_\_\_\_.

5

У исполнителя Квадратор две команды, которым присвоены номера:

**1. раздели на 3**

**2. возведи в квадрат**

Первая из них уменьшает число на экране в 3 раза, вторая возводит число в квадрат.

Исполнитель работает только с натуральными числами.

Составьте алгоритм получения **из числа 18 числа 16**, содержащий не более 4 команд. В ответе запишите только номера команд.

(Например, 1212 – это алгоритм:

*раздели на 3*

*возведи в квадрат*

*раздели на 3*

*возведи в квадрат*

*который преобразует число 18 в число 144.)*

Если таких алгоритмов более одного, то запишите любой из них.

Ответ: \_\_\_\_\_.

**6** Ниже приведена программа, записанная на пяти языках программирования.

C++	Python	Паскаль
<pre>#include &lt;iostream&gt; using namespace std;  int main() {     int s, k;     cin &gt;&gt; s;     cin &gt;&gt; k;     if s &gt; 8    k &gt; 8         cout &lt;&lt; "ДА";     else         cout &lt;&lt; "НЕТ";     return 0; }</pre>	<pre>s = int(input()) k = int(input()) if s &gt; 8 or k &gt; 8:     print("ДА") else:     print("НЕТ")</pre>	<pre>var s, k: integer; begin     readln(s);     readln(k);     if (s &gt; 8) or (k &gt; 8)         then writeln('ДА')         else writeln('НЕТ')     end.</pre>
Алгоритмический язык		Бейсик
<pre>алг нач     цел s, k     ввод s     ввод k     если s &gt; 8 или k &gt; 8         то вывод "ДА"         иначе вывод "НЕТ"     все кон</pre>		<pre>DIM k, s AS INTEGER INPUT s INPUT k IF (s &gt; 8) OR (k &gt; 8) THEN     PRINT 'ДА' ELSE     PRINT 'НЕТ' END IF</pre>

Было проведено 9 запусков программы, при которых в качестве значений переменных  $s$  и  $k$  вводились следующие пары чисел:

(19, 12); (7, -11); (15, 2); (-8, -8); (-3, 8); (-10, 12); (-10, -2); (15, 2); (10, 10).

Сколько было запусков, при которых программа напечатала «НЕТ»?

Ответ: \_\_\_\_\_.

**7**

Доступ к файлу **rus.doc**, находящемуся на сервере **obr.org**, осуществляется по протоколу **https**. Фрагменты адреса файла закодированы цифрами от 1 до 7. Запишите последовательность этих цифр, кодирующую адрес указанного файла в сети Интернет.

- 1) obr.
- 2) /
- 3) org
- 4) ://
- 5) doc
- 6) rus.
- 7) https

Ответ:

--	--	--	--	--	--	--

**8**

В языке запросов поискового сервера для обозначения логической операции «ИЛИ» используется символ «|», а для логической операции «И» – символ «&». В таблице приведены запросы и количество найденных по ним страниц некоторого сегмента сети Интернет.

Запрос	Найдено страниц (в тысячах)
<i>Золотой &amp; Ключик</i>	6500
<i>Золотой   Ключик</i>	60 000
<i>Золотой</i>	28 000

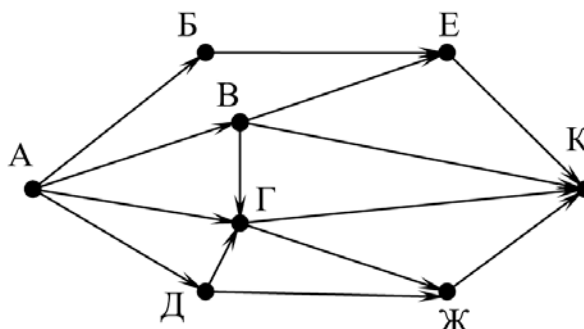
Какое количество страниц (в тысячах) будет найдено по запросу *Ключик*?

Считается, что все запросы выполнялись практически одновременно, так что набор страниц, содержащих все искомые слова, не изменялся за время выполнения запросов.

Ответ: \_\_\_\_\_.

9

На рисунке – схема дорог, связывающих города А, Б, В, Г, Д, Е, Ж и К. По каждой дороге можно двигаться только в одном направлении, указанном стрелкой. Сколько существует различных путей из города А в город К?



Ответ: \_\_\_\_\_.

10

Вычислите значение арифметического выражения:

$$11010101_2 + 1011_8 - 100_{16}$$

В ответе запишите десятичное число, основание системы счисления указывать не нужно.

Ответ: \_\_\_\_\_.

## Часть 2

*Задания этой части (11–16) выполняются на компьютере. Ответом к заданиям 11, 12 является слово или число. Результатом выполнения заданий 13–16 является отдельный файл (для одного задания – один файл). Формат файла, его имя и каталог для сохранения Вам сообщат организаторы.*

11

В одном из произведений И.С. Тургенева, текст которого приведён в подкаталоге **Тургенев**, автор встречается с г-жой Шлыковой. С помощью поисковых средств операционной системы и текстового редактора выясните имя её сестры.

Ответ: \_\_\_\_\_.

12

Сколько файлов с расширением .docx содержится в подкаталогах каталога **Поэзия**? В ответе укажите только число.

Ответ: \_\_\_\_\_.

**Выберите ОДНО из предложенных ниже заданий: 13.1 или 13.2.**

**13.1** Используя информацию и иллюстративный материал, содержащийся в каталоге **Эльбрус**, создайте презентацию из **трёх** слайдов на тему «**Эльбрус и Приэльбрусье**». В презентации должны содержаться **краткие иллюстрированные** сведения об Эльбрусе и Приэльбрусье. Все слайды должны быть выполнены в едином стиле, каждый слайд должен быть озаглавлен.

Презентацию сохраните в файле, имя которого Вам сообщат организаторы. Файл ответа необходимо сохранить в одном из следующих форматов: \*.odp, \*.ppt, \*.pptx

#### **Требования к оформлению работы**

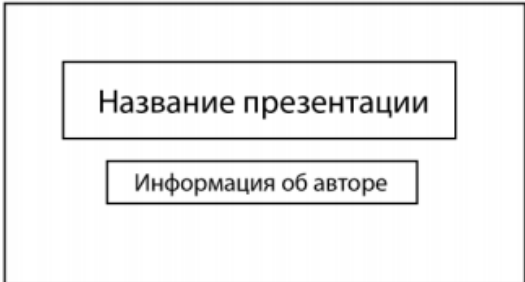
1. Ровно три слайда без анимации.

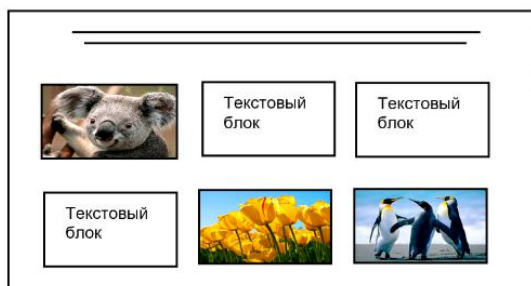
Параметры страницы (слайда): экран (16:9), ориентация альбомная.

2. Содержание, структура, форматирование шрифта и размещение изображений на слайдах:

- первый слайд – титульный слайд с названием презентации; в подзаголовке титульного слайда в качестве информации об авторе презентации указывается идентификационный номер участника;
- второй слайд – основная информация в соответствии с заданием, размещённая по образцу на рисунке макета слайда 2:
  - заголовок слайда;
  - два блока текста;
  - два изображения;
- третий слайд – дополнительная информация по теме презентации, размещённая на слайде по образцу на рисунке макета слайда 3:
  - заголовок слайда;
  - три изображения;
  - три блока текста.

На макетах слайдов существенным является наличие всех объектов, включая заголовки, их взаимное расположение. Выравнивание объектов, ориентация изображений выполняются произвольно в соответствии с замыслом автора работы и служат наилучшему раскрытию темы.

Тема презентации	Макет 1-го слайда
	<p>Тема презентации</p>

	<p><b>Макет 2-го слайда</b> Основная информация по теме презентации</p>
	<p><b>Макет 3-го слайда</b> Дополнительная информация по теме презентации</p>

В презентации должен использоваться единый тип шрифта.

Размер шрифта для названия презентации на титульном слайде – 40 пунктов, для подзаголовка на титульном слайде и заголовков слайдов – 24 пункта, для подзаголовков на втором и третьем слайдах и для основного текста – 20 пунктов.

Текст не должен перекрывать основные изображения или сливаться с фоном.

- 13.2** Создайте в текстовом редакторе документ и напишите в нём следующий текст, точно воспроизведя всё оформление текста, имеющееся в образце.
- Данный текст должен быть набран шрифтом размером 14 пт обычного начертания. Отступ первой строки абзацев основного текста – 1 см. Расстояние между строками текста не менее одинарного, но не более полуторного междустрочного интервала. Основной текст выровнен по ширине; заголовки в тексте и таблице – по центру; в ячейках первого столбца применено выравнивание по центру, в ячейках второго столбца – по левому краю. В основном тексте и таблице есть слова, выделенные полужирным, курсивным шрифтом и подчёркиванием. Таблица выровнена на странице по центру по горизонтали. Ширина таблицы меньше ширины основного текста. При этом допустимо, чтобы ширина Вашего текста отличалась от ширины текста в примере, поскольку ширина текста зависит от размеров страницы и полей. В этом случае разбиение текста на строки должно соответствовать стандартной ширине абзаца. Интервал между абзацами и интервал между текстом и таблицей не менее 12 пт и не более 24 пт.
- Текст сохраните в файле, имя которого Вам сообщат организаторы. Файл ответа необходимо сохранить в одном из следующих форматов: \*.odt, или \*.doc, или \*.docx.



## ЭЛЬБРУС

**Эльбрус** расположен на самой границе республик *Кабардино-Балкария* и *Карачаево-Черкесия*, чуть севернее Главного Кавказского хребта. Это самая высокая точка в России, по праву считается одним из семи чудес нашей страны.

Гора представляет собой конус потухшего вулкана, извергавшегося последний раз вначале нашей эры. Высота западной вершины **Эльбруса** – 5642 метра, восточной – 5621 метр, вершины разделены глубокой седловиной (5325 метров).

<u>Характеристики</u>	
<i>Форма вулкана</i>	Стратовулкан
<i>Диаметр кратера</i>	600 м
<i>Глубина кратера</i>	300 м
<i>Последнее извержение</i>	900 лет назад
<u>Высшая точка</u>	
<i>Абсолютная высота</i>	5642,7 м
<i>Относительная высота</i>	4741 м
<i>Расположение</i>	43°20'45" с. ш. 42°26'55" в. д

**14**

В электронную таблицу занесли результаты анонимного тестирования. Все участники набирали баллы, делая задания для левой и правой руки. Ниже приведены первые строки получившейся таблицы.

	<b>A</b>	<b>B</b>	<b>C</b>	<b>D</b>	<b>E</b>
<b>1</b>	<i>номер участника</i>	<i>пол</i>	<i>статус</i>	<i>левая рука</i>	<i>правая рука</i>
<b>2</b>	участник 1	жен.	пенсионер	35	34
<b>3</b>	участник 2	муж.	студент	57	53
<b>4</b>	участник 3	муж.	пенсионер	47	64
<b>5</b>	участник 4	муж.	служащий	34	58

В столбце A указан номер участника, в столбце B – пол, в столбце C – один из трёх статусов: пенсионер, служащий, студент, в столбцах D, E – показатели тестирования для левой и правой руки.

Всего в электронную таблицу были занесены данные по 1000 участникам. Порядок записей в таблице произвольный.

**Выполните задание.**

Откройте файл с данной электронной таблицей (расположение файла Вам сообщат организаторы). На основании данных, содержащихся в этой таблице, выполните задания.

1. Каков средний показатель для левой руки у женщин? Ответ на этот вопрос с точностью до одного знака после запятой запишите в ячейку G2 таблицы.
2. У скольких мужчин показатель для левой руки больше показателя для правой руки? Ответ на этот вопрос запишите в ячейку G3 таблицы.
3. Постройте круговую диаграмму, отображающую соотношение среднего показателя для левой руки у женщин, для правой руки у женщин, для левой руки у мужчин и для правой руки у мужчин. Левый верхний угол диаграммы разместите вблизи ячейки G6. В поле диаграммы должны присутствовать легенда (обозначение, какой сектор диаграммы соответствует каким данным) и числовые значения данных, по которым построена диаграмма.

Полученную таблицу необходимо сохранить под именем, указанным организаторами.

**15**

Исполнитель Робот умеет перемещаться по лабиринту, начерченному на плоскости, разбитой на клетки. Между соседними (по сторонам) клетками может стоять стена, через которую Робот пройти не может.

У Робота есть девять команд. Четыре команды – это команды-приказы:

**вверх   вниз   влево   вправо**

При выполнении любой из этих команд Робот перемещается на одну клетку соответственно: вверх ↑, вниз ↓, влево ←, вправо →. Если Робот получит команду передвижения сквозь стену, то он разрушится.

Также у Робота есть команда **закрасить**, при которой закрашивается клетка, где Робот находится в настоящий момент.

Ещё четыре команды – это команды проверки условий. Эти команды проверяют, свободен ли путь для Робота в каждом из четырёх возможных направлений:

**сверху свободно   снизу свободно   слева свободно   справа свободно**

Эти команды можно использовать вместе с условием «если», имеющим следующий вид:

**если условие то**

*последовательность команд*

**все**

Здесь *условие* – одна из команд проверки условия.

*Последовательность команд* – это одна или несколько любых команд-приказов.

*Например*, для передвижения на одну клетку вправо, если справа нет стенки и закрашивания клетки, можно использовать такой алгоритм:

**если справа свободно то**

**вправо**

**закрасить**

**все**

В одном условии можно использовать несколько команд проверки условий, применяя логические связки **и**, **или**, **не**, например:

**если (справа свободно) и (не снизу свободно) то**

**вправо**

**все**

Для повторения последовательности команд можно использовать цикл «пока», имеющий следующий вид:

**нц пока условие**

*последовательность команд*

**кц**

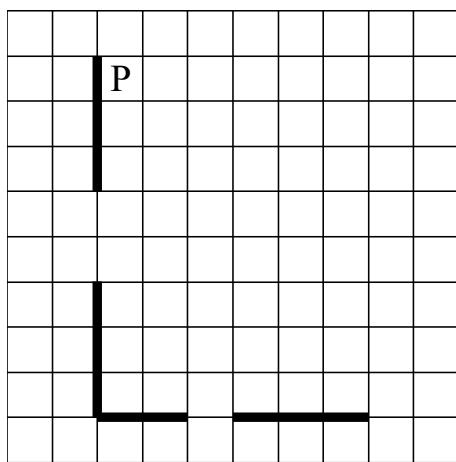
*Например*, для движения вправо, пока это возможно, следует использовать такой алгоритм:

**нц пока справа свободно  
вправо  
кц**

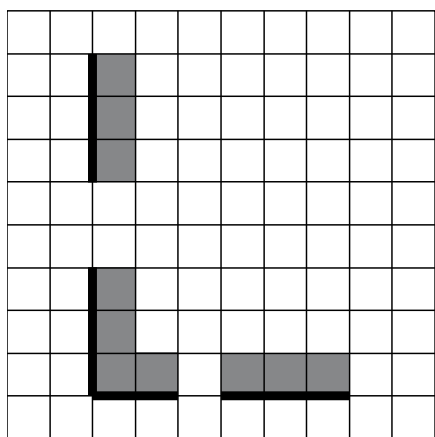
**Выполните задание.**

На бесконечном поле есть горизонтальная и вертикальная стены. Левый конец горизонтальной стены соединён с нижним концом вертикальной стены. Длины стен неизвестны. В каждой стене есть ровно один проход, точное место прохода и его ширина неизвестны. Робот находится в клетке, расположенной рядом с вертикальной стеной справа от её верхнего конца.

На рисунке указан один из возможных способов расположения стен и Робота (Робот обозначен буквой «Р»).



Напишите для Робота алгоритм, закрашивающий все клетки, расположенные непосредственно выше горизонтальной стены и правее вертикальной стены. Проходы должны остаться незакрашенными. Робот должен закрасить только клетки, удовлетворяющие данному условию. Например, для приведённого выше рисунка Робот должен закрасить следующие клетки (см. рисунок).



При исполнении алгоритма Робот не должен разрушиться, выполнение алгоритма должно завершиться. Конечное расположение Робота может быть произвольным.

Алгоритм должен решать задачу для любого допустимого расположения стен и любого расположения и размера проходов внутри стен.

Алгоритм может быть выполнен в среде формального исполнителя или записан в текстовом редакторе.

Сохраните алгоритм в файле. Название файла и каталог для сохранения Вам сообщат организаторы.

**16**

Напишите программу, которая в последовательности натуральных чисел вычисляет сумму всех двузначных чисел, кратных 8. Программа получает на вход натуральные числа, количество введённых чисел неизвестно, последовательность чисел заканчивается числом 0 (0 — признак окончания ввода, не входит в последовательность).

Количество чисел не превышает 20. Введённые числа не превышают 1500.

Программа должна вывести одно число: сумму всех двузначных чисел, кратных 8.

*Пример работы программы:*

Входные данные	Выходные данные
17 16 32 160 0	48

**Тренировочная работа №1 по  
ИНФОРМАТИКЕ 9 класс  
ОГЭ 2025 года  
Вариант 02**

Выполнена: ФИО \_\_\_\_\_ класс \_\_\_\_\_

**Инструкция по выполнению работы**

Работа состоит из двух частей, включающих в себя 16 заданий. Часть 1 содержит 10 заданий с кратким ответом; часть 2 содержит 6 заданий, которые необходимо выполнить на компьютере.

На выполнение работы по информатике отводится 2 часа 30 минут (150 минут). Вы можете самостоятельно определять время, которое отводите на выполнение заданий, но рекомендуемое время на выполнение заданий части 1 – 30 минут, на выполнение заданий части 2 – 2 часа (120 минут).

Ответы к заданиям 1–12 записываются в виде числа, слова, последовательности букв или цифр. Ответ запишите в поле ответа в тексте работы.

Результатом выполнения каждого из заданий 13–16 является отдельный файл. Формат файла, его имя и каталог для сохранения Вам сообщат организаторы.

Все записи делаются яркими чёрными чернилами. Допускается использование гелевой или капиллярной ручки.

При выполнении заданий можно пользоваться черновиком. **Записи в черновике не учитываются при оценивании работы.**

Баллы, полученные Вами за выполненные задания, суммируются.

Постарайтесь выполнить как можно больше заданий и набрать наибольшее количество баллов.

***Желаем успеха!***

## Часть 1

*Ответами к заданиям 1–10 являются число, слово, последовательность букв или цифр.*

**1** В одной из кодировок Unicode каждый символ кодируется 16 бит.  
Вася написал текст (в нём нет лишних пробелов):

«Я знаю девять браузеров: Tor, Edge, Opera, Chrome, Firefox, Explorer, SeaMonkey, ZenBrowser, SlimBrowser».

Ученик удалил из списка название одного браузера, а также лишние запятые и пробелы – два пробела не должны идти подряд.

При этом размер нового предложения в данной кодировке оказался на 12 байт меньше, чем размер исходного предложения. Напишите в ответе вычеркнутое слово.

Ответ: \_\_\_\_\_.

**2** Олег и Вова играли в шпионов и кодировали сообщения собственным шифром. Фрагмент кодовой таблицы приведён ниже:

К	И	У	С	М	Н
@ +	~ +	+ @	@ ~ +	+	~

Расшифруйте сообщение, если известно, что буквы в нём не повторяются:

+ ~ + ~ + @ @ ~ +

Запишите в ответе расшифрованное сообщение.

Ответ: \_\_\_\_\_.

**3** Определите наибольшее натуральное число  $x$ , для которого истинно логическое выражение:

**НЕ  $((x \geq 20)$  ИЛИ  $(x < 15))$ .**

Ответ: \_\_\_\_\_.

4

Между населёнными пунктами А, В, С, D, E, F построены дороги, протяжённость которых (в километрах) приведена в таблице.

	A	B	C	D	E	F
A		2	4			17
B	2		1			
C	4	1		5		
D			5		2	6
E				2		3
F	17			6	3	

Определите длину кратчайшего пути между пунктами А и F. Передвигаться можно только по дорогам, протяжённость которых указана в таблице.

Ответ: \_\_\_\_\_.

5

У исполнителя Квадратор две команды, которым присвоены номера:

**1. раздели на 2**

**2. возведи в квадрат**

Первая из них уменьшает число на экране в 2 раза, вторая возводит число в квадрат.

Исполнитель работает только с натуральными числами.

Составьте алгоритм получения **из числа 8 числа 128**, содержащий не более 4 команд. В ответе запишите только номера команд.

(Например, 1212 – это алгоритм:

*раздели на 2*

*возведи в квадрат*

*раздели на 2*

*возведи в квадрат*

*который преобразует число 20 в число 2500.)*

Если таких алгоритмов более одного, то запишите любой из них.

Ответ: \_\_\_\_\_.



**6** Ниже приведена программа, записанная на пяти языках программирования.

C++	Python	Паскаль
<pre>#include &lt;iostream&gt; using namespace std;  int main() {     int s, k;     cin &gt;&gt; s;     cin &gt;&gt; k;     if s &gt; 8    k &gt; 8         cout &lt;&lt; "ДА";     else         cout &lt;&lt; "НЕТ";     return 0; }</pre>	<pre>s = int(input()) k = int(input()) if s &gt; 8 or k &gt; 8:     print("ДА") else:     print("НЕТ")</pre>	<pre>var s, k: integer; begin     readln(s);     readln(k);     if (s &gt; 8) or (k &gt; 8)         then writeln('ДА')         else writeln('НЕТ')     end.</pre>
Алгоритмический язык		Бейсик
<pre>алг нач     цел s, k     ввод s     ввод k     если s &gt; 8 или k &gt; 8         то вывод "ДА"         иначе вывод "НЕТ"     все кон</pre>		<pre>DIM k, s AS INTEGER INPUT s INPUT k IF (s &gt; 8) OR (k &gt; 8) THEN     PRINT 'ДА' ELSE     PRINT 'НЕТ' END IF</pre>

Было проведено 9 запусков программы, при которых в качестве значений переменных  $s$  и  $k$  вводились следующие пары чисел:

(19, 12); (7, -11); (15, 2); (-8, -8); (-3, 8); (-10, 12); (-10, -2); (15, 2); (10, 10).

Сколько было запусков, при которых программа напечатала «ДА»?

Ответ: \_\_\_\_\_.

7

Доступ к файлу **math.doc**, находящемуся на сервере **obr.ru**, осуществляется по протоколу **https**. Фрагменты адреса файла закодированы цифрами от 1 до 7. Запишите последовательность этих цифр, кодирующую адрес указанного файла в сети Интернет.

- 1) obr
- 2) /
- 3) .ru
- 4) .doc
- 5) ://
- 6) math
- 7) https

Ответ:

--	--	--	--	--	--	--

8

В языке запросов поискового сервера для обозначения логической операции «ИЛИ» используется символ «|», а для логической операции «И» – символ «&». В таблице приведены запросы и количество найденных по ним страниц некоторого сегмента сети Интернет.

Запрос	Найдено страниц (в тысячах)
<i>Золотой &amp; Телёнок</i>	2000
<i>Золотой   Телёнок</i>	50 000
<i>Золотой</i>	28 000

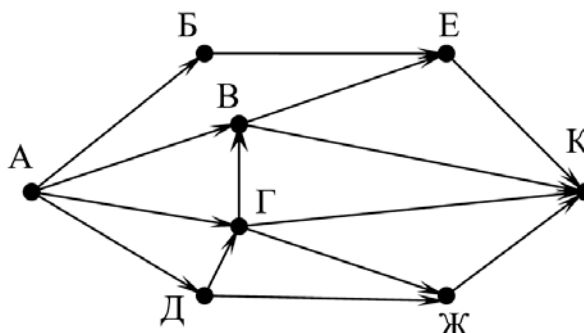
Какое количество страниц (в тысячах) будет найдено по запросу *Телёнок*?

Считается, что все запросы выполнялись практически одновременно, так что набор страниц, содержащих все искомые слова, не изменялся за время выполнения запросов.

Ответ: \_\_\_\_\_.

9

На рисунке – схема дорог, связывающих города А, Б, В, Г, Д, Е, Ж и К. По каждой дороге можно двигаться только в одном направлении, указанном стрелкой. Сколько существует различных путей из города А в город К?



Ответ: \_\_\_\_\_.

10

Вычислите значение арифметического выражения:

$$11010110_2 + 1010_8 - 110_{16}$$

В ответе запишите десятичное число, основание системы счисления указывать не нужно.

Ответ: \_\_\_\_\_.

## Часть 2

*Задания этой части (11–16) выполняются на компьютере. Ответом к заданиям 11, 12 является слово или число. Результатом выполнения заданий 13–16 является отдельный файл (для одного задания – один файл). Формат файла, его имя и каталог для сохранения Вам сообщат организаторы.*

11

В одном из произведений И.С. Тургенева, текст которого приведён в подкаталоге **Тургенев**, встречается помещик Мардарий Аполлоныч Стегунов. С помощью поисковых средств операционной системы и текстового редактора выясните, сколько у него душ в поместье.

Ответ: \_\_\_\_\_.

12

Сколько файлов с расширением .odt содержится в подкаталогах каталога **Поэзия**? В ответе укажите только число.

Ответ: \_\_\_\_\_.

**Выберите ОДНО из предложенных ниже заданий: 13.1 или 13.2.**

**13.1** Используя информацию и иллюстративный материал, содержащийся в каталоге **Эльбрус**, создайте презентацию из **трёх** слайдов на тему «**Эльбрус и Приэльбрусье**». В презентации должны содержаться **краткие иллюстрированные** сведения об Эльбрусе и Приэльбрусье. Все слайды должны быть выполнены в едином стиле, каждый слайд должен быть озаглавлен.

Презентацию сохраните в файле, имя которого Вам сообщат организаторы. Файл ответа необходимо сохранить в одном из следующих форматов: \*.odp, \*.ppt, \*.pptx

#### **Требования к оформлению работы**

1. Ровно три слайда без анимации.

Параметры страницы (слайда): экран (16:9), ориентация альбомная.

2. Содержание, структура, форматирование шрифта и размещение изображений на слайдах:

- первый слайд – титульный слайд с названием презентации; в подзаголовке титульного слайда в качестве информации об авторе презентации указывается идентификационный номер участника;
- второй слайд – основная информация в соответствии с заданием, размещённая по образцу на рисунке макета слайда 2:
  - заголовок слайда;
  - два блока текста;
  - два изображения;
- третий слайд – дополнительная информация по теме презентации, размещённая на слайде по образцу на рисунке макета слайда 3:
  - заголовок слайда;
  - три изображения;
  - три блока текста.

На макетах слайдов существенным является наличие всех объектов, включая заголовки, их взаимное расположение. Выравнивание объектов, ориентация изображений выполняются произвольно в соответствии с замыслом автора работы и служат наилучшему раскрытию темы.

Тема презентации	Макет 1-го слайда
<div style="border: 1px solid black; padding: 10px; margin: 10px;"> <div style="border: 1px solid black; padding: 5px; text-align: center; margin-bottom: 10px;">Название презентации</div> <div style="border: 1px solid black; padding: 5px; text-align: center;">Информация об авторе</div> </div>	<div style="border: 1px solid black; padding: 10px; margin: 10px;">Тема презентации</div>

	<p><b>Макет 2-го слайда</b> Основная информация по теме презентации</p>
	<p><b>Макет 3-го слайда</b> Дополнительная информация по теме презентации</p>

В презентации должен использоваться единый тип шрифта.

Размер шрифта для названия презентации на титульном слайде – 40 пунктов, для подзаголовка на титульном слайде и заголовков слайдов – 24 пункта, для подзаголовков на втором и третьем слайдах и для основного текста – 20 пунктов.

Текст не должен перекрывать основные изображения или сливаться с фоном.

- 13.2** Создайте в текстовом редакторе документ и напишите в нём следующий текст, точно воспроизведя всё оформление текста, имеющееся в образце.
- Данный текст должен быть набран шрифтом размером 14 пт обычного начертания. Отступ первой строки абзацев основного текста – 1 см. Расстояние между строками текста не менее одинарного, но не более полуторного междустрочного интервала. Основной текст выровнен по ширине; заголовки в тексте и таблице – по центру; в ячейках первого столбца применено выравнивание по центру, в ячейках второго столбца – по левому краю. В основном тексте и таблице есть слова, выделенные полужирным, курсивным шрифтом и подчёркиванием. Таблица выровнена на странице по центру по горизонтали. Ширина таблицы меньше ширины основного текста. При этом допустимо, чтобы ширина Вашего текста отличалась от ширины текста в примере, поскольку ширина текста зависит от размеров страницы и полей. В этом случае разбиение текста на строки должно соответствовать стандартной ширине абзаца. Интервал между абзацами и интервал между текстом и таблицей не менее 12 пт и не более 24 пт.
- Текст сохраните в файле, имя которого Вам сообщат организаторы. Файл ответа необходимо сохранить в одном из следующих форматов: \*.odt, или \*.doc, или \*.docx.

## ЭЛЬБРУС

**Эльбрус** расположен на самой границе республик *Кабардино-Балкария* и *Карачаево-Черкесия*, чуть севернее Главного Кавказского хребта. Это самая высокая точка в России, по праву считается одним из семи чудес нашей страны.

Гора представляет собой конус потухшего вулкана, извергавшегося последний раз вначале нашей эры. Высота западной вершины **Эльбруса** – 5642 метра, восточной – 5621 метр, вершины разделены глубокой седловиной (5325 метров).

<u>Характеристики</u>	
<i>Форма вулкана</i>	Стратовулкан
<i>Диаметр кратера</i>	600 м
<i>Глубина кратера</i>	300 м
<i>Последнее извержение</i>	900 лет назад
<u>Высшая точка</u>	
<i>Абсолютная высота</i>	5642,7 м
<i>Относительная высота</i>	4741 м
<i>Расположение</i>	43°20'45" с. ш. 42°26'55" в. д

**14**

В электронную таблицу занесли результаты анонимного тестирования. Все участники набирали баллы, делая задания для левой и правой руки. Ниже приведены первые строки получившейся таблицы.

	<b>A</b>	<b>B</b>	<b>C</b>	<b>D</b>	<b>E</b>
<b>1</b>	<i>номер участника</i>	<i>пол</i>	<i>статус</i>	<i>левая рука</i>	<i>правая рука</i>
<b>2</b>	участник 1	жен.	пенсионер	35	34
<b>3</b>	участник 2	муж.	студент	57	53
<b>4</b>	участник 3	муж.	пенсионер	47	64
<b>5</b>	участник 4	муж.	служащий	34	58

В столбце A указан номер участника, в столбце B – пол, в столбце C – один из трёх статусов: пенсионер, служащий, студент, в столбцах D, E – показатели тестирования для левой и правой руки.

Всего в электронную таблицу были занесены данные по 1000 участникам. Порядок записей в таблице произвольный.

**Выполните задание.**

Откройте файл с данной электронной таблицей (расположение файла Вам сообщат организаторы). На основании данных, содержащихся в этой таблице, выполните задания.

1. Каков средний показатель для правой руки у мужчин? Ответ на этот вопрос с точностью до одного знака после запятой запишите в ячейку G2 таблицы.
2. У скольких женщин показатель для левой руки больше показателя для правой руки? Ответ на этот вопрос запишите в ячейку G3 таблицы.
3. Постройте круговую диаграмму, отображающую соотношение количества пенсионеров, студентов и служащих. Левый верхний угол диаграммы разместите вблизи ячейки G6. В поле диаграммы должны присутствовать легенда (обозначение, какой сектор диаграммы соответствует каким данным) и числовые значения данных, по которым построена диаграмма.

Полученную таблицу необходимо сохранить под именем, указанным организаторами.

- 15** Исполнитель Робот умеет перемещаться по лабиринту, начерченному на плоскости, разбитой на клетки. Между соседними (по сторонам) клетками может стоять стена, через которую Робот пройти не может.  
У Робота есть девять команд. Четыре команды – это команды-приказы:

**вверх вниз влево вправо**

При выполнении любой из этих команд Робот перемещается на одну клетку соответственно: вверх ↑, вниз ↓, влево ←, вправо →. Если Робот получит команду передвижения сквозь стену, то он разрушится.

Также у Робота есть команда **закрасить**, при которой закрашивается клетка, где Робот находится в настоящий момент.

Ещё четыре команды – это команды проверки условий. Эти команды проверяют, свободен ли путь для Робота в каждом из четырёх возможных направлений:

**сверху свободно снизу свободно слева свободно справа свободно**

Эти команды можно использовать вместе с условием «если», имеющим следующий вид:

**если условие то**

*последовательность команд*

**все**

Здесь *условие* – одна из команд проверки условия.

*Последовательность команд* – это одна или несколько любых команд-приказов.

*Например*, для передвижения на одну клетку вправо, если справа нет стенки и закрашивания клетки, можно использовать такой алгоритм:

**если справа свободно то**

**вправо**

**закрасить**

**все**

В одном условии можно использовать несколько команд проверки условий, применяя логические связки **и**, **или**, **не**, например:

**если (справа свободно) и (не снизу свободно) то**

**вправо**

**все**

Для повторения последовательности команд следует использовать цикл «пока», имеющий следующий вид:

**нц пока условие**

*последовательность команд*

**кц**

*Например*, для движения вправо, пока это возможно, можно использовать такой алгоритм:

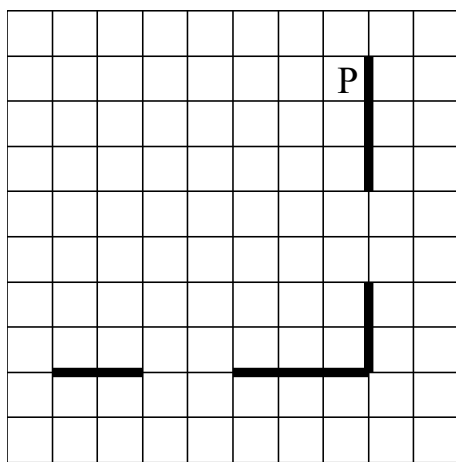


**нц пока справа свободно  
вправо  
кц**

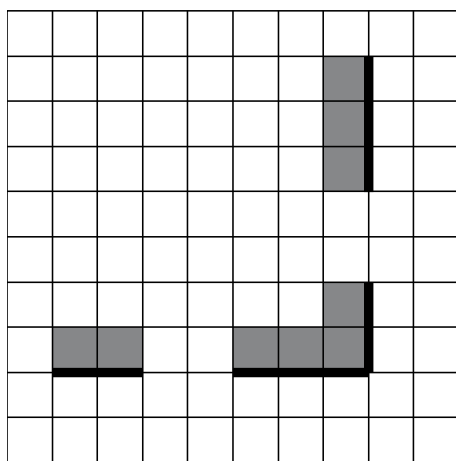
**Выполните задание.**

На бесконечном поле есть горизонтальная и вертикальная стены. Правый конец горизонтальной стены соединён с нижним концом вертикальной стены. Длины стен неизвестны. В каждой стене есть ровно один проход, точное место прохода и его ширина неизвестны. Робот находится в клетке, расположенной рядом с вертикальной стеной слева от её верхнего конца.

На рисунке указан один из возможных способов расположения стен и Робота (Робот обозначен буквой «Р»).



Напишите для Робота алгоритм, закрашивающий все клетки, расположенные непосредственно выше горизонтальной стены и левее вертикальной стены. Проходы должны остаться незакрашенными. Робот должен закрасить только клетки, удовлетворяющие данному условию. Например, для приведённого выше рисунка Робот должен закрасить следующие клетки (см. рисунок).



При исполнении алгоритма Робот не должен разрушиться, выполнение алгоритма должно завершиться. Конечное расположение Робота может быть произвольным.

Алгоритм должен решать задачу для любого допустимого расположения стен и любого расположения и размера проходов внутри стен.

Алгоритм может быть выполнен в среде формального исполнителя или записан в текстовом редакторе.

Сохраните алгоритм в формате программы КуМир или в текстовом файле. Название файла и каталог для сохранения Вам сообщат организаторы.

**16**

Напишите программу, которая в последовательности натуральных чисел вычисляет сумму всех однозначных чисел, кратных 3. Программа получает на вход натуральные числа, количество введённых чисел неизвестно, последовательность чисел заканчивается числом 0 (0 – признак окончания ввода, не входит в последовательность).

Количество чисел не превышает 100. Введённые числа не превышают 300.

Программа должна вывести одно число: сумму всех однозначных чисел, кратных 3.

*Пример работы программы:*

Входные данные	Выходные данные
6 6 17 18 0	12